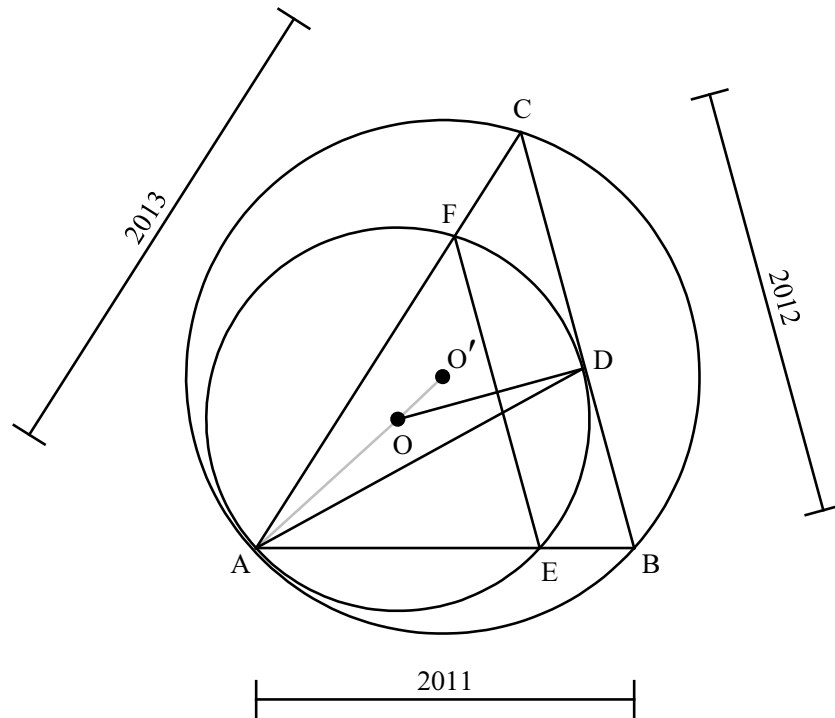


22. กำหนดให้ ABC เป็นรูปสามเหลี่ยม มี $AB = 2011$ หน่วย, $BC = 2012$ หน่วย และ $CA = 2013$ หน่วย วงกลม O สัมผัสวงกลมที่ล้อมรอบ ABC ที่จุด A สัมผัส BC ที่จุด D ตัด AB และ AC ที่จุด E และ F ตามลำดับ EF ยาวกี่หน่วย

ตอบ 1,509 หน่วย

- แนวคิด**
1. ใช้ความรู้เรื่องการแปลงทางเรขาคณิตแบบการเปลี่ยนขนาด
 2. ใช้ทฤษฎีบทเส้นแบ่งครึ่งมุมในรูปสามเหลี่ยม
 3. ใช้ทฤษฎีบทกำลังของจุด

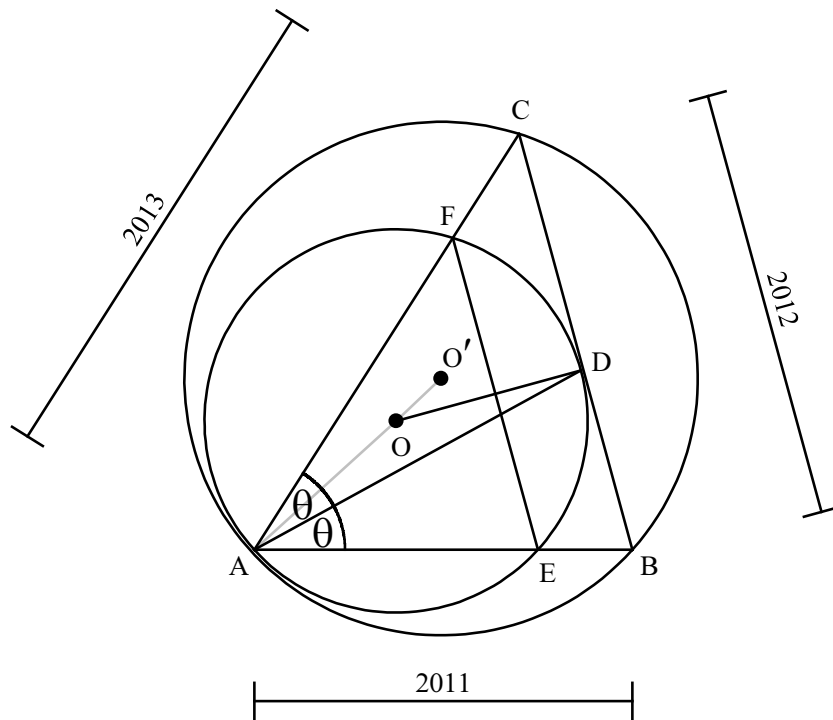


จากรูป จะเห็นว่าวงกลม O' เป็นภาพที่ได้จากการแปลงวงกลม O แบบการเปลี่ยนขนาด (dilation) โดยมีจุดศูนย์กลางของการแปลงอยู่ที่จุด A ซึ่งทำให้ได้ว่า $\triangle AEF \sim \triangle ABC$ นั่นคือแสดงว่า $EF \parallel BC$

ดังนั้นโดยสมบัติของรูปสามเหลี่ยมคล้าย จะได้ว่า $\frac{EF}{AE} = \frac{BC}{AB}$ แทนค่า $BC = 2012$ และ $AB = 2011$ จะได้ว่า

$$EF = \frac{2012}{2011} \times AE \quad \dots (*)$$

ลากส่วนของเส้นตรง AD เราจะพิสูจน์ได้ไม่ยากว่า \overline{AD} จะเป็นเส้นแบ่งครึ่งมุม A ของ $\triangle ABC$ (ดูการพิสูจน์ในตอนท้ายข้อ)



ขั้นที่ 1. หา BD

โดยทฤษฎีบทเส้นแบ่งครึ่งมุมในรูปสามเหลี่ยม จะได้ว่า $\frac{BD}{DC} = \frac{AB}{AC}$

$$\begin{aligned} \therefore \frac{BD}{2012 - BD} &= \frac{2011}{2013} \\ 2013 \cdot BD &= 2011 \times 2012 - 2011 \cdot BD \\ BD &= \frac{2011 \times 2012}{2024} \\ BD &= \frac{2011}{2} \end{aligned}$$

ขั้นที่ 2. หา AE

โดยทฤษฎีบทกำลังของจุด (power of a point theorem) เมื่อพิจารณาว่าจุด B เป็นจุดภายนอกวงกลม O แล้วลาก BA ไปตัดกับวงกลม O ที่จุด E กับ ลากไปสัมผัสวงกลม O ที่จุด D จะได้ว่า

$$BD \times BE = BA \times BD$$

$$BD^2 = (2011 - AE) \times 2011$$

$$2011 - AE = \frac{BD^2}{2011}$$

$$AE = 2011 - \frac{BD^2}{2011}$$

แทนค่า $BD = \frac{2011}{2}$ จากขั้นที่ 1 จะได้ว่า

$$AE = 2011 - \frac{2011}{4}$$

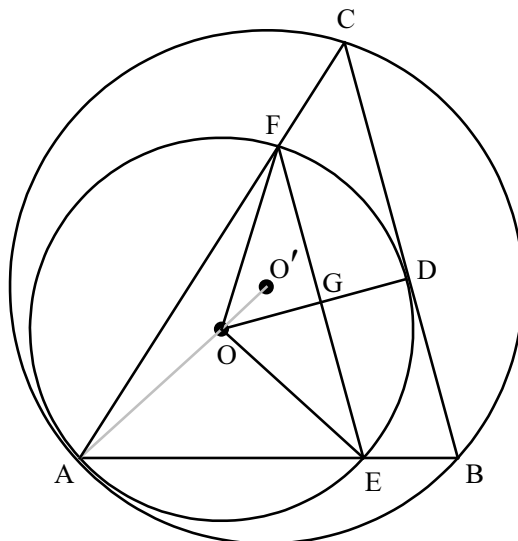
$$\therefore AE = \frac{3}{4} \times 2011$$

แทนค่า $AE = \frac{3}{4} \times 2011$ ลงในสมการ (*) จะได้ว่า

$$EF = \frac{2012}{2011} \times AE = \frac{2012}{2011} \times \frac{3}{4} \times 2011 = 503 \times 3 = 1509$$

การพิสูจน์ว่า \overline{AD} เป็นเส้นแบ่งครึ่งมุม A ของ $\triangle ABC$

ขั้นที่ 1. จะพิสูจน์ว่า D เป็นจุดกึ่งกลางของส่วนโค้ง \widehat{EF} (ด้านขวา)



จากรูป จะได้ $\triangle OEG \cong \triangle OGF$ แบบ ด้าน-ด้าน-มุม

($OG = OG$ ด้านร่วม, $OE = OF$ รัศมีวงกลม O , $\angle OEG = \angle OFG$ เพราะ $\triangle OEF$ เป็นรูปสามเหลี่ยมหน้าจั่ว)

โดยสมบัติของรูปสามเหลี่ยมที่เท่ากันทุกประการ จึงสรุปได้ว่า

$$\angle GOE = \angle GOF$$

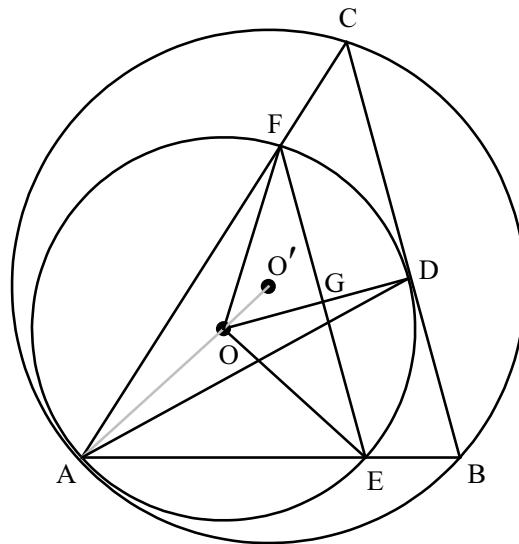
ดังนั้น $\angle DOE = \angle DOF$

$$\therefore \widehat{DE} = \widehat{DF}$$

(เพราะเป็นส่วนโค้งของมุมที่จุดศูนย์กลางที่รองรับมุมที่มีขนาดเท่ากัน)

จึงสรุปได้ว่า D เป็นจุดกึ่งกลางของ \widehat{EF}

ขั้นที่ 2. ลาก \overline{AD}



จะเห็นได้ชัดว่า $\angle DAE$ มีส่วนโค้ง \widehat{DE} รองรับ

และ $\angle DAF$ มีส่วนโค้ง \widehat{DF} รองรับ

แต่จากขั้นที่ 1. เราทราบว่า $\widehat{DE} = \widehat{DF}$ ทำให้ได้ว่า $\angle DAE = \angle DAF$

จึงสรุปได้ว่า \overline{AD} เป็นเส้นแบ่งครึ่งมุม